

SCHOOL BASED ASSESSMENT 2024-25

Mid-Term

Mathematics Grade 4

Objective: 10 MCQs (10x2=20 Marks) and Subjective: 30 Marks, Total: 50 Marks , Time = 1 Hour 30 minutes

School Name: _____

Student Name : _____

Roll Number : _____

Section : _____

حصہ اول: معروضی سوالات

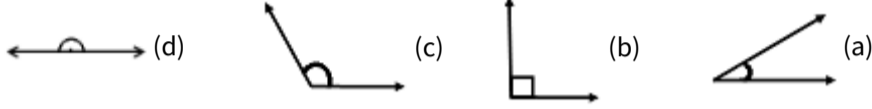
سوال نمبر 2: ملی لٹر 297 + ملی لٹر 538 کا حل ہے۔

(a) 241 ملی لٹر (b) 583 ملی لٹر (c) 725 ملی لٹر (d) 835 ملی لٹر

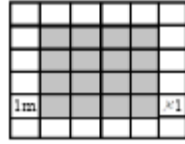
سوال نمبر 4: احمد ایک گھر میں 8 سال رہا۔ اس نے اس گھر میں مہینے گزارے۔

(a) 56 مہینے (b) 69 مہینے (c) 96 مہینے (d) 240 مہینے

سوال نمبر 6: منفرجہ زاویہ کی شناخت کریں۔

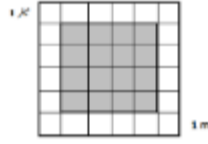


سوال نمبر 8: دی گئی شکل کے سایہ دار حصے کا رقبہ ہے۔



(a) 4 مربع میٹر (b) 8 مربع میٹر (c) 12 مربع میٹر (d) 16 مربع میٹر

سوال نمبر 10: دی گئی شکل میں سایہ دار حصے کا احاطہ ہے۔



(a) 12 میٹر (b) 14 میٹر (c) 16 میٹر (d) 18 میٹر

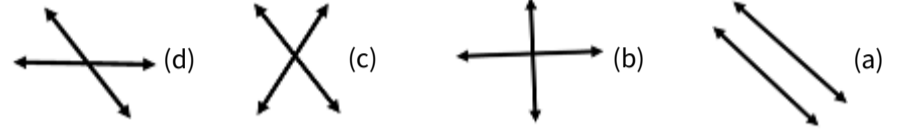
سوال نمبر 3: 2 کلوگرام میں گرام ہوتے ہیں۔

(a) 23 گرام (b) 230 گرام (c) 2300 گرام (d) 23000 گرام

سوال نمبر 3: 9 سالوں میں مہینے ہوتے ہیں۔

(a) 84 مہینے (b) 96 مہینے (c) 108 مہینے (d) 120 مہینے

سوال نمبر 5: متوازی خطوط کی شناخت کریں۔



سوال نمبر 7: 7 میٹر 174 میٹر + 13 میٹر 203 میٹر کا حل ہے۔

(a) 337 میٹر 22 (b) 377 میٹر 22 (c) 737 میٹر 22 (d) 777 میٹر 22

سوال نمبر 9: دی گئی شکل میں خط تشاکل کی تعداد ہے۔



(a) 0 (b) 1 (c) 2 (d) 3

حصہ دوم: انشائیہ سوالات

سوال نمبر 11


(i) حل کریں۔ گرام 18 کلوگرام 21 - گرام 28 کلوگرام 34 (5 نمبر)

(ii) ایک بالٹی کی گنجائش 8 لٹر 493 ملی لٹر اور ٹب کی گنجائش 29 لٹر 289 ملی لٹر ہے۔ ٹب اور بالٹی کی کل گنجائش معلوم کریں؟ (5 نمبر)

سوال نمبر 12

(i) 5 سال 8 مہینوں کو مہینوں میں تبدیل کریں۔ (5 نمبر)

(ii) دی گئی شکل کے سایہ دار حصے کا احاطہ معلوم کریں۔ (5 نمبر)



سوال نمبر 13

(i) 120^0 کا زاویہ بنائیں۔ (5 نمبر)

(ii) دی گئی شکل کا نام لکھیں اور اس کے راسوں، کناروں اور سطحوں کی تعداد بتائیں۔ (5 نمبر)

